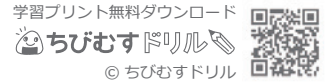


文章題 対象：5年生 ねらい：図形の角に関する文章問題を理解し、正しく答えられる。

点 _____



1 ()にあてはまる数やことばを書きましょう。各5点(20)

① 直線だけで囲まれた図形を多角形といいます。

5本の直線で囲まれた図形を, (),
 6本の直線で囲まれた図形を, ()とといいます。

② 三角形の3つの角の大きさの和は, ()です。

③ 四角形の4つの角の大きさの和は, ()です。

2 右の図を見て, ①~③の問題に答えましょう。式10点 答え各10点(50)

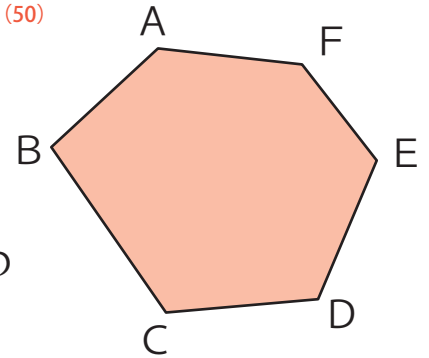
① この多角形の名前は何ですか。

答え _____

② ^{ちょうてん}頂点Aからひける対角線は何本ですか。また, それらの対角線でいくつの三角形に分けられますか。

対角線 _____

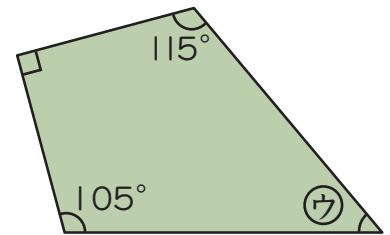
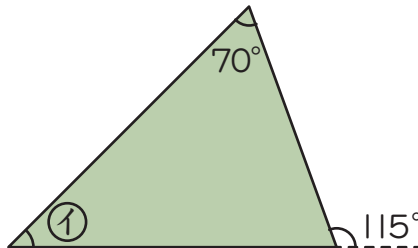
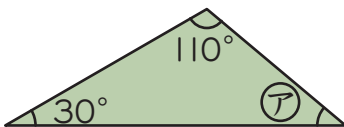
三角形 _____



③ この多角形のすべての角の大きさの和は何度ですか。

式 _____ 答え _____

3 下の図形の㉗, ㉘, ㉙のうち角度がいちばん小さいのはどれでしょう。30点



答え _____