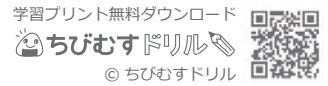


# 文章問題-面積(1) 前

文章題 対象：4年生 ねらい：文章を読んで正しい式を立て、長方形や正方形の面積が求められる。

点



1 次の①～③の面積は何<sup>めんせき</sup>cm<sup>2</sup>ですか。 式 各5点 答え 各5点 (30)

① たてが9 cm, 横が6 cm の長方形のカード。

式

答え

② 1<sup>ぺん</sup>辺が25 cmの正方形のハンカチ。

式

答え

③ たてが15 cm, 横が10 cm の長方形のはがき。

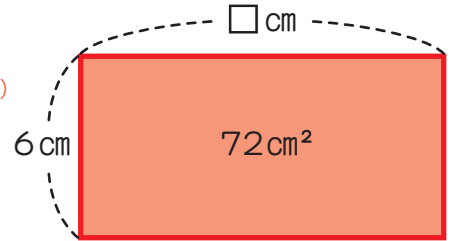
式

答え

2 面積が72 cm<sup>2</sup>の長方形をかきます。 式 各15点 答え 各10点 (50)

① たての長さを6 cmにすると, 横の長さは何cmにすればよいですか。

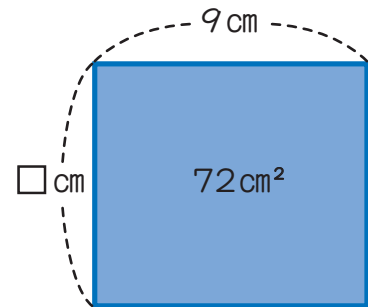
横の長さを□ cmとして, かけ算の式に表してから, 答えを求めましょう。



式

答え

② 横の長さを9 cmにすると, たての長さは何cmにすればよいですか。 たての長さを□ cmとして, かけ算の式に表してから答えを求めましょう。

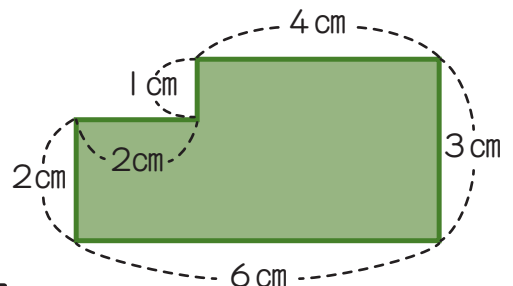


式

答え

3 右のような形の面積を求めましょう。 式 10点 答え 10点 (20)

式



答え